

平成 15 年度

大学院生命環境科学研究科 2 月期入学試験

(第 2 次学生募集)

地球環境科学専攻

専門科目

人文地理学 ----- P.1
地誌学 ----- P.2

関連科目

日本史 ----- P.3

注意

- *指示があるまで問題冊子を開いてはならない。
- *専門科目と関連科目のうちから、事前に届けてある 3 科目について解答すること。
- *選択した科目ごとにそれぞれ別の答案用紙を用いること。
- *選択した科目ごとにそれぞれ 1 枚の答案用紙を用いること。

(専門科目)

人文地理学

I 図1は北陸地方のある稲作農村における米の10a当たり収量の推移を示したものである。図を参考にしながら、この農村における1930年から2000年に至る稲作の変遷を説明しなさい。

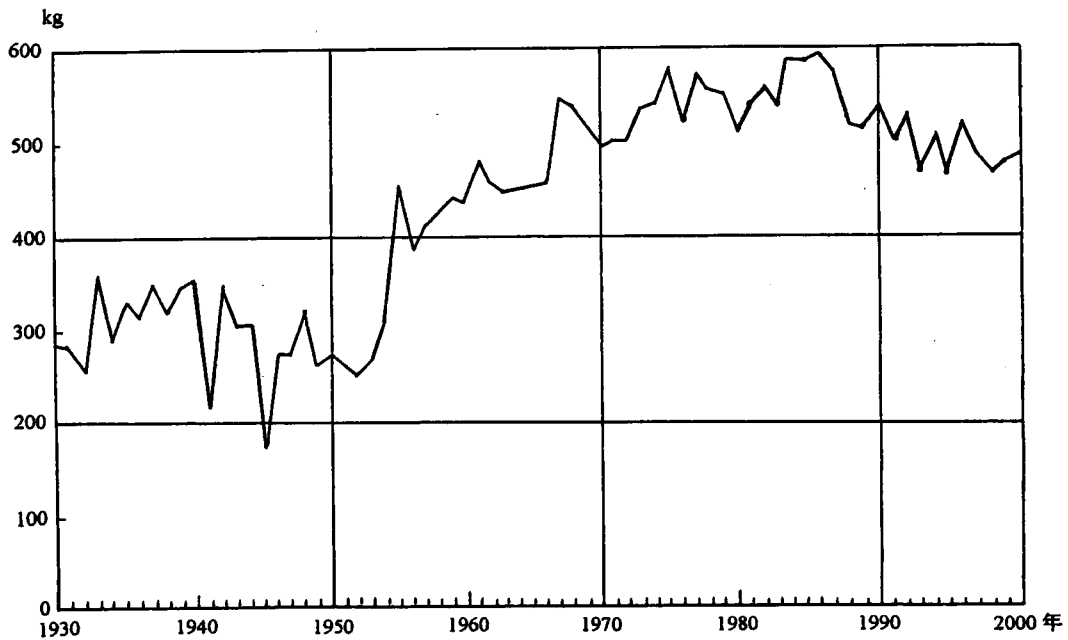


図1

II 表1は、日本における3大都市圏の人口増加率を示したものである。表を参考にしながら、日本の大都市圏における人口動態とそれに伴う地域構造の変容について説明しなさい。

表1

	1975～90年 (%)		1990～95年 (%)	
	中心都市	周辺都市	中心都市	周辺都市
東京圏	-5.6	31.7	-2.4	4.9
京阪神圏	-0.7	15.2	-1.3	4.7
名古屋圏	3.6	16.5	-0.1	5.4

注1) 大都市圏の範囲は総務庁統計局『大都市圏の人口』による。

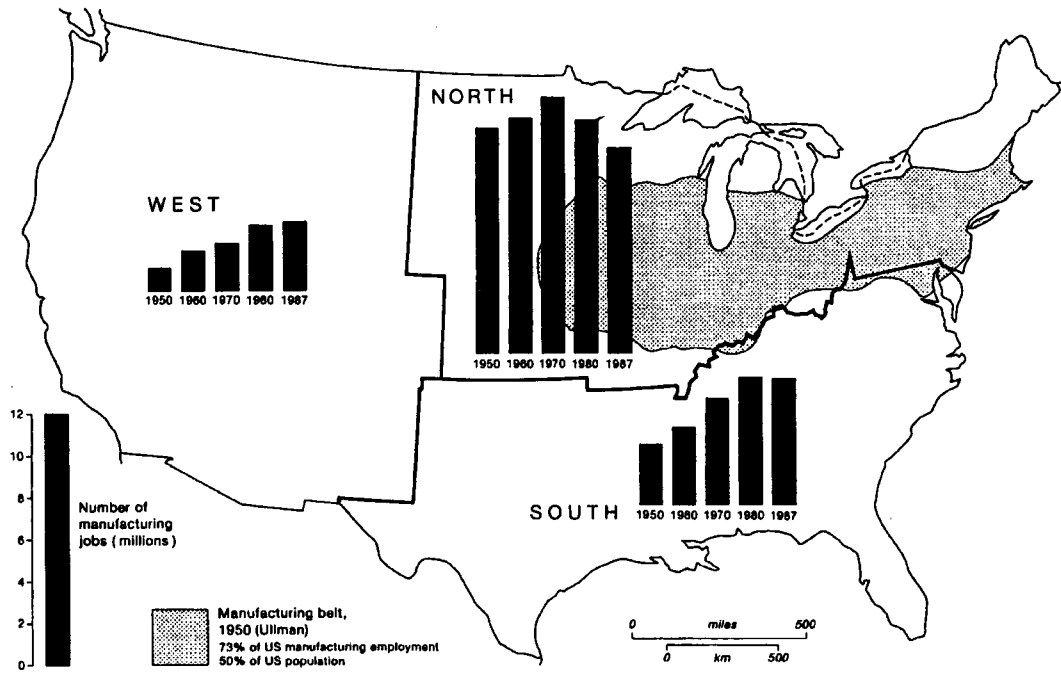
2) 大都市圏の名称は総務庁統計局『大都市圏の人口』と異なる。

3) 各圏の中心都市は東京特別区部および政令指定都市とする。

(富田・藤井 2001) による。

(専門科目)
地誌学

I 下の図を参考にして、アメリカ合衆国における製造業の地域的構成の変化について述べなさい。



出所：Estall (1991) による。

II 下の図を参考にして、ヨーロッパとアメリカ合衆国における市街地の規模にみられる差異とその要因を述べなさい。

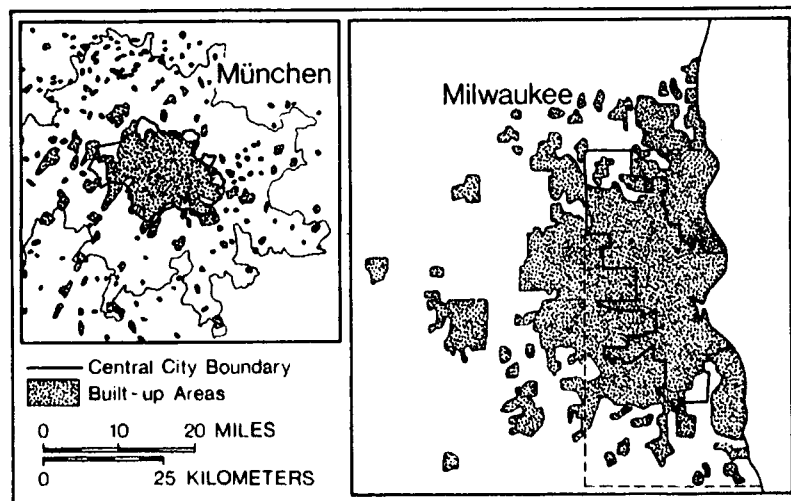


FIGURE München, Germany, and Milwaukee, Wisconsin, metropolitan areas drawn to the same scale. The two urban areas each have about 1.5 million inhabitants.

出所：Jordan (1996) による。

(関連科目)

日本史

I. 次の事項・人名から3つを選んで説明しなさい。

- 1) 弘仁・貞観文化
- 2) 尚巴志
- 3) 日宋貿易
- 4) 満州事変
- 5) 明暦の大火

II. 明治時代初期における殖産興業政策の特徴を次の語句をすべて用いて説明しなさい。なお語句の順番は問わない。

開拓使 渋沢栄一 鉄道 富岡製糸場